

令和5年度 高校一般入学試験  
進学コース

# 社会

(50分／100点満点)

《受験上の注意点》

1. 監督の先生の指示があるまで、試験問題に手を触れないでください。
2. 問題冊子は21ページ、解答用紙は1枚あります。
3. 解答はすべて解答用紙に記入してください。
4. 問題冊子・解答用紙に受験番号と氏名を記入してください。
5. 問題冊子・解答用紙の回収については監督の先生の指示に従ってください。

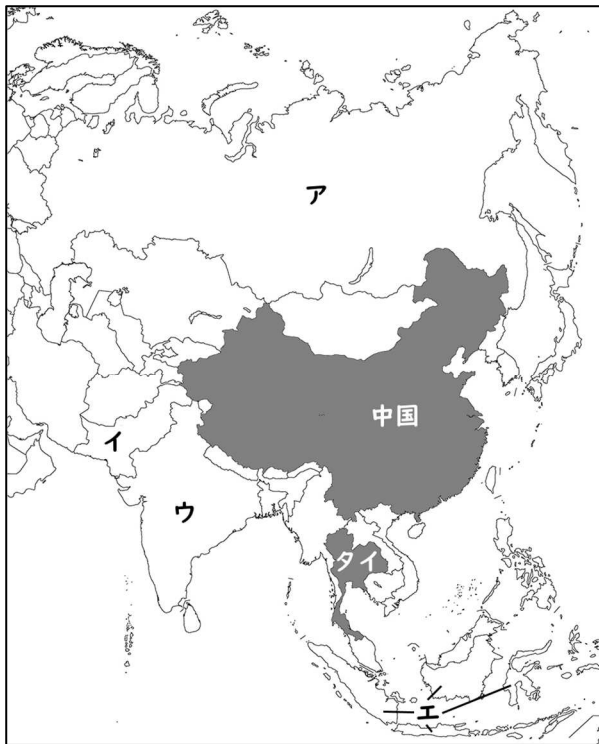
受験番号	
氏名	



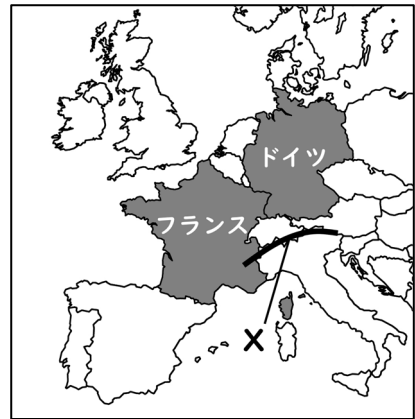
(問題は次のページから始まります)

[1] 次の地図1～地図4をもとに、あとの問いに答えなさい。

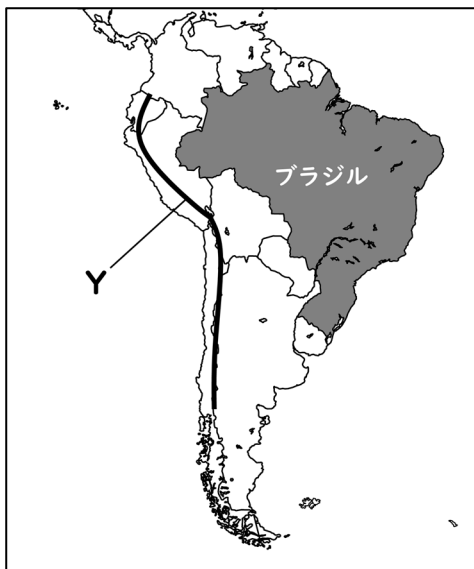
(14点)



地図1 (記号ア～エは(2)の解答に用いる)



地図2



地図3



地図4

※地図1～地図4で、縮尺は異なる

- (1) 2022年11月15日、世界の人口は新たな大台に達した(国連「世界人口推計2022」による)。次のア～エのうち、ふさわしいものを1つ選び、記号で答えなさい。

ア 3億人      イ 15億人      ウ 50億人      エ 80億人

- (2) 2023年に「世界一人口の多い国」は、地図1中の中国から他の国に移ることが予想されている(国連「世界人口推計2022」による)。新たに「世界一人口の多い国」になる国としてふさわしいものを、地図1中のア～エから1つ選び、記号で答えなさい。

- (3) 地図2・地図3中の山脈X・山脈Yの組み合わせとしてふさわしいものを、次のア～エから1つ選び、記号で答えなさい。

	山脈X	山脈Y
ア	アルプス山脈	ロッキー山脈
イ	アルプス山脈	アンデス山脈
ウ	ウラル山脈	ロッキー山脈
エ	ウラル山脈	アンデス山脈

- (4) 次の資料1中の国ア～エには、地図1～地図3中のタイ、フランス、ドイツ、ブラジルのいずれかの国があてはまる。ドイツを示しているものとしてふさわしいものをア～エから1つ選び、記号で答えなさい。

資料1

	穀物 生産量 (万トン)	1人あたり GDP (ドル)	エネルギー供給の構成 (熱量換算)		
ア	3551	7189	①石油	②天然ガス	③バイオ燃料等
イ	12557	6797	①石油	②バイオ燃料等	③水力
ウ	4327	45909	①石油	②天然ガス	③石炭
エ	5685	38959	①原子力	②石油	③天然ガス

※①～③は第1位～第3位を表す(2020年 世界国勢図会 2022/23より)

- (5) 地図1～地図3中の各国について、国名－公用語名の組み合わせとして誤っているものを次のア～エから1つ選び、記号で答えなさい。

ア 中国－中国語                      イ タイ－タイ語  
ウ フランス－フランス語              エ ブラジル－ブラジル語

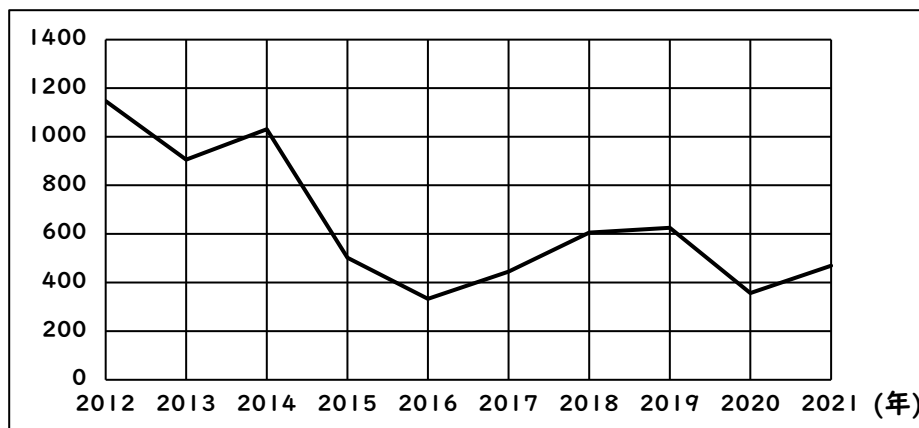
- (6) 地図4中のガーナは、世界有数のカカオ豆の産地であり、イギリス植民地時代に作られた大農園で、輸出用の作物として栽培されている。この大農園のことを何というか。カタカナで答えなさい。

- (7) 下の資料2は、地図4中のナイジェリアの、2012年から2021年までの輸出総額の推移を示したものである。また資料3は、2020年の同国の主要輸出品目の表である。2つの資料をもとに述べた次の文の空欄 (a) にあてはまる文を、5字以上10字以内で答えなさい。

ナイジェリアの輸出総額はここ10年間で約3分の1になるなど、安定感を欠いている。これは、同国の輸出総額が (a) に左右されやすいためと考えられる。

資料2

(単位：億ドル)



(UNCTADによる)

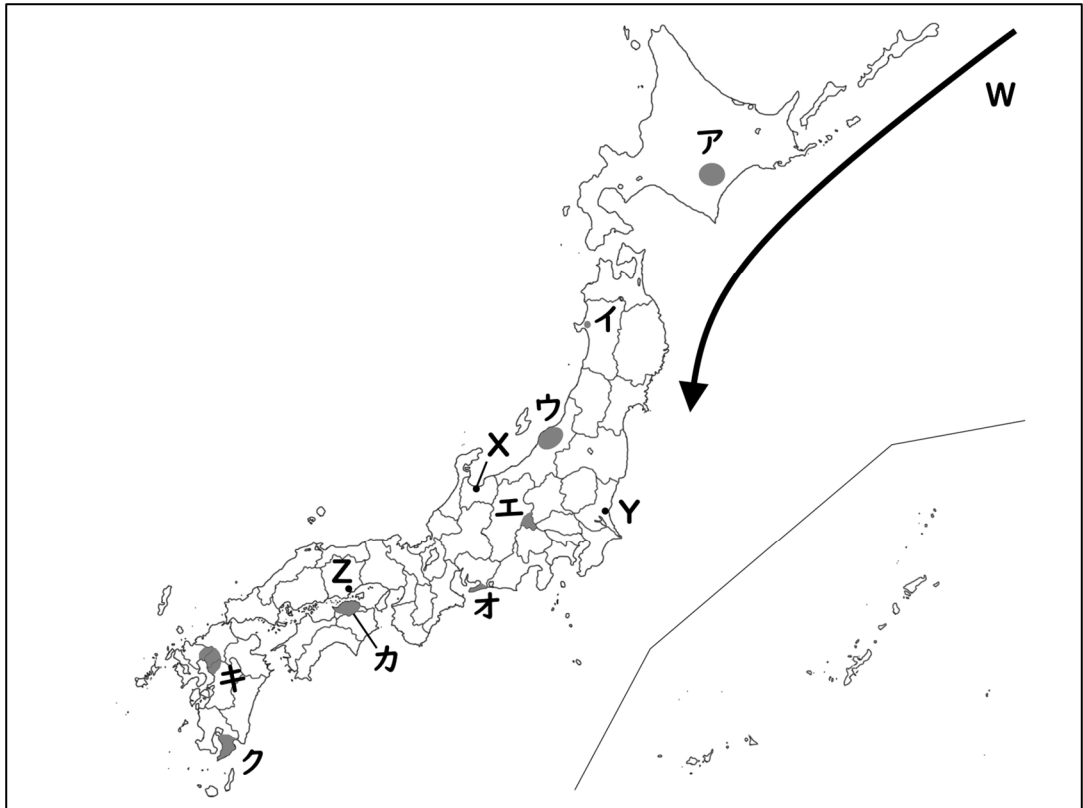
資料3

順位	輸出品目	輸出額	輸出総額に対する割合
1位	原油	263億ドル	75.4%
2位	液化天然ガス	39億ドル	11.2%
3位	船舶	22億ドル	6.2%

(2020年 世界国勢図会 2022/23より)

〔2〕以下の地図Ⅰ・資料Ⅰ・地形図Ⅰをもとにあとの問いに答えなさい。(14点)

地図Ⅰ



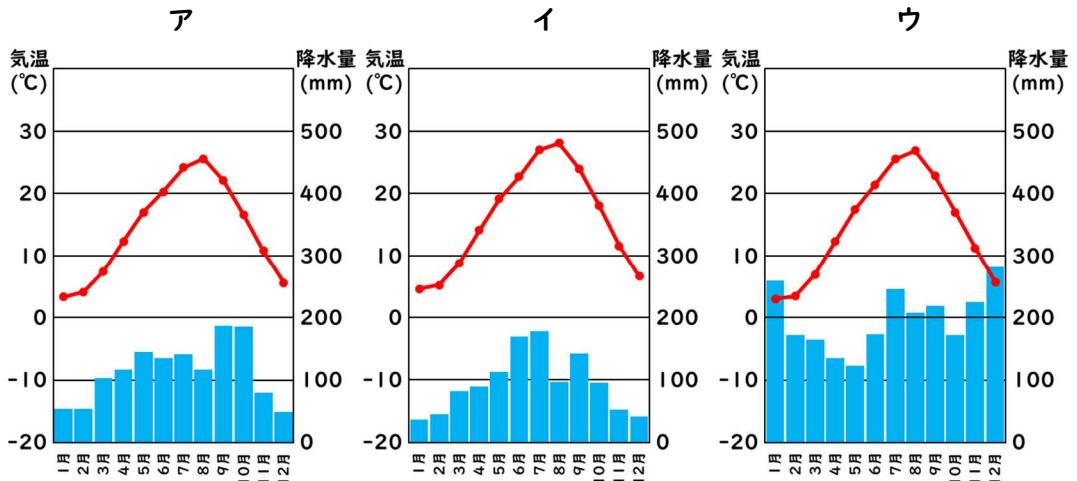
(1) 次の文①・②が説明している地域を、地図Ⅰ中のア～クから1つずつ選び、記号で答えなさい。

- ① この地域は降水量が少なく、山から海までの距離が短いため、水不足が起こりやすい土地がらであり、古くからため池が多く作られてきた。
- ② 火山灰が積もった水はけのよい台地で、さつまいもや茶などが栽培されている。

(2) 地図Ⅰ中の矢印Wで示した海流としてふさわしいものを、次のア～エから1つ選び、記号で答えなさい。

- |                |                |
|----------------|----------------|
| ア 暖流の黒潮 (日本海流) | イ 暖流の親潮 (千島海流) |
| ウ 寒流の黒潮 (日本海流) | エ 寒流の親潮 (千島海流) |

(3) 次の図ア～ウは、地図1中の3都市、X(富山市)・Y(水戸市)・Z(岡山市)のいずれかの雨温図である。X～Zの都市の雨温図を、ア～ウから1つずつ選び、記号で答えなさい。

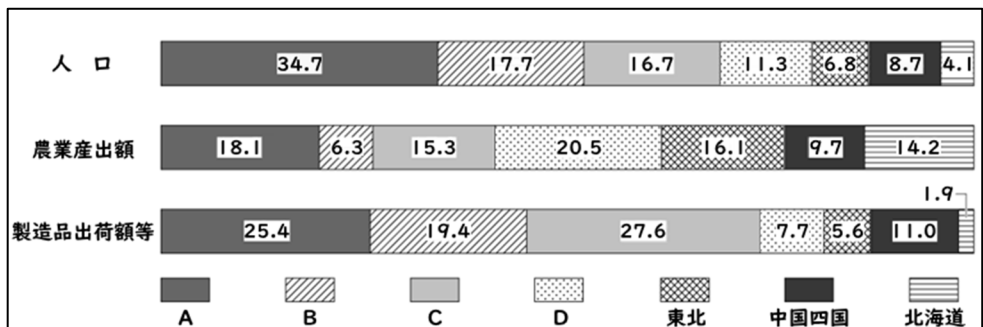


(1991年～2020年 気象庁による)

(4) 次の資料1は、日本を7つの地方(北海道・東北・関東・中部・近畿・中国四国・九州)に区分し、人口・農業産出額・製造品出荷額等の割合を比較したものであり、A～Dは関東・中部・近畿・九州のいずれかである。これをもとに述べたあとの文の空欄 (a) ・ (b) にあてはまる語句を答えなさい。

資料1

(単位：%)



※九州には沖縄県も含む (2019年または2020年 データでみる県勢2023より)

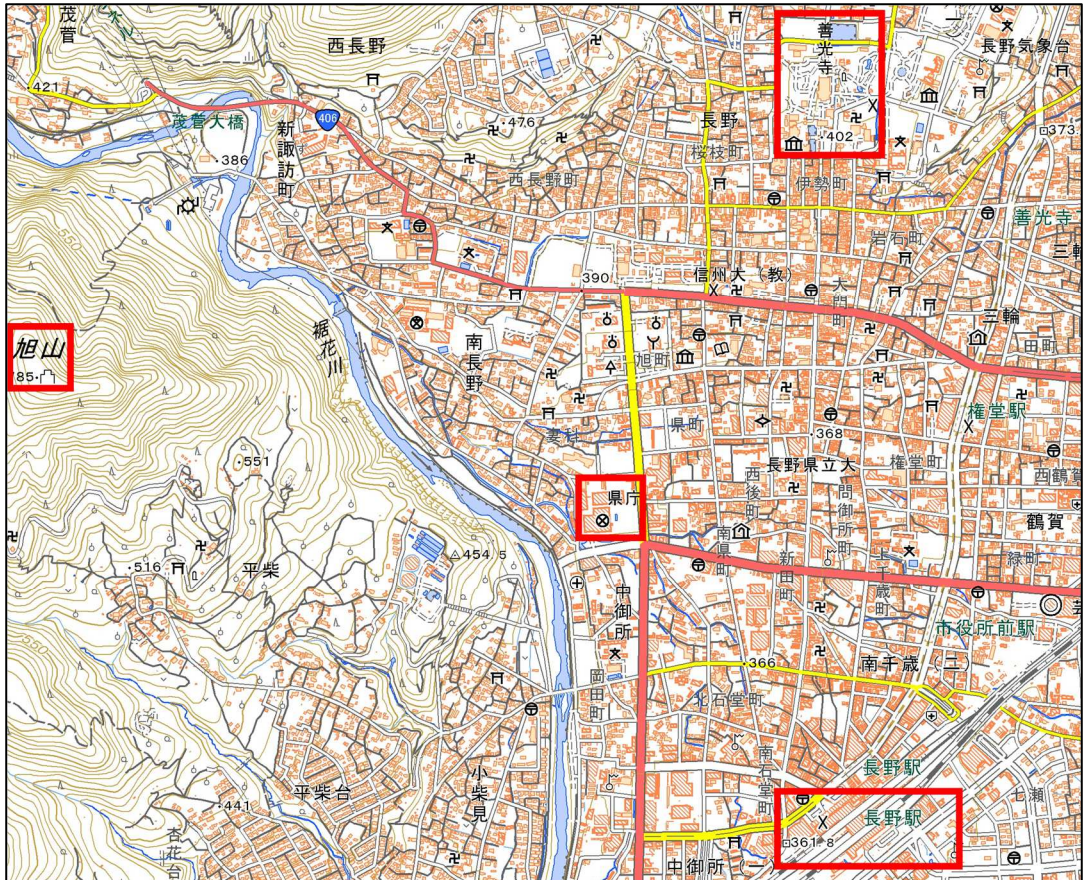
農業産出額の割合が最も高いDの地方では、野菜などの作物をビニールハウスで生産して出荷時期を早める (a) 栽培や畜産業が盛んである。

製造品出荷額等の割合が最も高いCの地方では、太平洋側に (b) 工業地域が広がっている。



(5) 次の地形図 I をもとに述べたあとの文章ア～エのうち、誤っているものを 1 つ選び、記号で答えなさい。

地形図 I



(国土地理院電子地形図 25000 より)

- ア 旭山の南東側斜面では、果樹が栽培されている。
- イ 長野駅付近から善光寺まで北上する参道は、登り坂になっている。
- ウ JR長野駅前から、地下を進む鉄道路線が北北東の方角にのびている。
- エ 県庁から見て、北に裁判所や消防署、南に病院、東に老人ホームがある。

〔3〕 次のⅠ・Ⅱの各問いに答えなさい。

(26点)

Ⅰ 次の表Ⅰは、日本の歴史を「天皇の政治への関わり方」をもとに大きく7つの時期に区切った表である。これをもとに、あとの問いに答えなさい。

表Ⅰ

	天皇の政治への関わり方	時 期
A	大王をはじめとする豪族が連合して政治を行った	4世紀頃～7世紀中頃
B	天皇が自ら政治を行った	7世紀中頃～9世紀中頃
C	天皇よりも摂政・関白や上皇・法皇が実権を握った	9世紀中頃～12世紀末頃
D	天皇は武家政権とは別に存在感を発揮した	12世紀末頃～15世紀中頃
E	天皇の政治権力は武家政権により大きく制限された	17世紀初頃～19世紀中頃
F	天皇が君主となり憲法のもとで統治権を握った	19世紀中頃～20世紀中頃
G	天皇は日本国および日本国民統合の (a) となった	20世紀中頃～ 現在

(1) Aの期間に、聖徳太子(厩戸皇子)が制定したとされる「十七条の憲法」の条文ア～エのうち、特に大王(天皇)の権威の大きさを強調しているものを1つ選び、記号で答えなさい。

ア 一に曰く、和を以て貴しと為し、忤ふること無きを宗とせよ。

イ 二に曰く、篤く三宝を敬へ。三宝とは仏・法・僧なり。

ウ 三に曰く、詔を承りては必ず謹め、君をば天とす、臣をば地とす。

エ 四に曰く、群臣百寮、礼を以て本とせよ。其れ民を治むるが本、必ず礼にあり。

(2) Bの期間の出来事としてふさわしいものを、次のア～エから1つ選び、記号で答えなさい。

ア 天皇の権威が高まり、公家を重視する建武の新政が始まった。

イ 天皇が約60年にもわたって2人並び立つという状況が解消された。

ウ 天皇の由来などを説明するために、古事記や日本書紀が作られた。

エ 天皇の命令で作られた歌集としては最古の古今和歌集が成立した。

- (3) Cの期間において、藤原氏の一族が自分の娘を天皇に嫁がせ、天皇の外祖父（母方の祖父）となることで政治の実権を握る、摂関政治の時代があった。その最盛期にあたり、次のような和歌をよんだ人物の名前を、解答欄にあわせて漢字で答えなさい。

この世をば わが世とぞ思ふ 望月の かけたることも なしと思へば

- (4) Dの期間に、天皇や貴族の住宅様式（寝殿造）にかわる新たな住宅の様式として「書院造」が成立した。現在の和風住宅は、この書院造の強い影響を受けている。次のア～エのうち、書院造の特徴としてふさわしくないものを1つ選び、記号で答えなさい。

ア 畳



イ 違い棚



ウ 床の間



エ しとみ 蔀



(5) DとEの間の期間は、天皇の力も武家政権の力も地方に及ばなくなっていた。そのきっかけとなった15世紀の出来事としてふさわしいものを、次のア～エから1つ選び、記号で答えなさい。

- ア 壬申<sup>じん</sup>の乱
- イ 承久の乱
- ウ 応仁の乱
- エ 島原の乱

(6) Eの期間で、天皇の政治権力を制限するために武家政権が制定した法律としてふさわしいものを、次のア～エから1つ選び、記号で答えなさい。

- ア 大宝律令
- イ 御成敗式目
- ウ 武家諸法度
- エ 禁中並公家諸法度

(7) Fの期間で、天皇が国民（臣民）に与えるという形で大日本帝国憲法が発布された。この前後の出来事である次のア～エについて、これらを時期の古い順に並べかえて、記号で答えなさい。

- ア 板垣退助らが、民撰<sup>じんせん</sup>議院設立建白書を政府に提出した。
- イ 内閣制度がつくられ、初代内閣総理大臣に伊藤博文が就任した。
- ウ 全国各地の自由民権運動の代表者により、国会期成同盟が結成された。
- エ 第1回帝国議会が開かれた。

(8) Gの空欄 (a) にあてはまる語句を漢字2字で答えなさい。

Ⅱ 次の表2の年表は、日本が関わった主な戦争についてまとめたものである。これをもとに、あとの問いに答えなさい。

表2

1274年	} フビライの日本侵攻を退ける（文永の役・弘安の役）	…①
1281年		
1592年	豊臣秀吉が朝鮮に出兵する（文禄の役・慶長の役）	…②
1863年	薩英戦争が起こる	
1894年	[ a ]をきっかけに、日清戦争が始まる	
1900年	義和団事件が起こる	…③
1904年	満州や朝鮮半島の支配を巡って、日露戦争が始まる	
1914年	ヨーロッパで第一次世界大戦が始まる	
1931年	[ b ]をきっかけに、満州事変が起こる	…④
1937年	[ c ]をきっかけに、日中戦争が始まる	
1939年	ヨーロッパで第二次世界大戦が始まる	
1941年	[ d ]をきっかけに、太平洋戦争が始まる（第二次世界大戦の拡大）	

(1) 表2の①～③当時に中国大陸を治めていた王朝の組み合わせとして正しいものを、次のア～カから1つ選び、記号で答えなさい。

- ア ①清 ・ ②明 ・ ③元  
 イ ①清 ・ ②元 ・ ③明  
 ウ ①明 ・ ②清 ・ ③元  
 エ ①明 ・ ②元 ・ ③清  
 オ ①元 ・ ②清 ・ ③明  
 カ ①元 ・ ②明 ・ ③清

(2) [ a ]～[ d ]には、次のア～エのいずれかがあてはまる。このうち、[ c ]にあてはまるものを1つ選び、記号で答えなさい。

- ア 盧溝橋における軍事衝突      イ 朝鮮での甲午農民戦争  
 ウ 日本海軍による真珠湾攻撃      エ 南満州鉄道の爆破事件

- (3) 次の条文は、表2中のある戦争のあとに結ばれた条約のものである。どの条約の条文であるか、あとのア～エから1つ選び、記号で答えなさい。

第二條  
露西亞帝國政府ハ日本國力韓國ニ於テ政事上、軍事上及經濟上ノ卓絶ナル利益ヲ有スルコトヲ承認シ日本帝國政府力韓國ニ於テ必要ト認ムル指導、保護及監理ノ措置ヲ執ルニ方リ之ヲ阻礙シ又ハ之ニ干涉セサルコトヲ約ス

第四條  
日本國及露西亞國ハ清國力滿洲ノ商工業ヲ發達セシメムカ爲列國ニ共通スル一般ノ措置ヲ執ルニ方リ之ヲ阻礙セサルコトヲ互ニ約ス

(法令全書より)

- |           |                |
|-----------|----------------|
| ア ベルサイユ条約 | イ 下関条約         |
| ウ ポーツマス条約 | エ サンフランシスコ平和条約 |

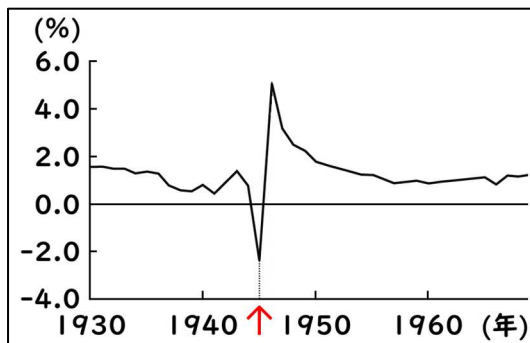
- (4) 表2中の1863年に関連して、この年は当時のアメリカ大統領によるゲティスバーグ演説が行われた年でもある。以下は、その演説の中の一節である。この演説を行ったアメリカ大統領の名前を答えなさい。

(前略) government of the people, by the people, for the people,  
shall not perish from the earth.

※perish 消え去る

(米国の歴史と民主主義の基本文書大統領演説より)

- (5) 次の資料は、日本の人口増減率（前年比）をグラフにしたものである。表2の④以降、長期の戦争を戦った日本だが、その間も人口は増加を続けていたことがわかる。一方で、グラフ中で↑を施した年のみ人口が大きく減少している。その要因として考えられることを15字以内で答えなさい。



※朝鮮、台湾、南樺太などの人口は含まない（数字で見る日本の100年より）

〔4〕 次の文章を読んで、あとの問いに答えなさい。

(16点)

1980年代後半の日本経済は、株価や土地・建物等の不動産価格が本来の価値からかけ離れて高騰する (a) 経済となった。1990年代には、それらの値段が急激に下がり ( (a) 崩壊)、「失われた20年」とも呼ばれる長い停滞期に突入した。

2000年代に入ると、日本経済はいくぶんかの回復を見せるようになり、2002年2月からは「いざなぎ景気」と呼ばれる戦後最長の景気拡大期を経験した。しかし、昭和期の景気拡大と比較すると、実質GDPの成長率は低調であった。また、2008年9月のリーマン・ショックに端を発する (b) 世界的な不況や、その後進んだ急激な (c) 円高、さらに2011年3月の東日本大震災などは、日本経済を大いに苦しめた。これに対し、2012年12月の (d) 衆議院議員選挙で大勝し (e) 内閣総理大臣となった安倍晋三は、 (f) アベノミクスと呼ばれる経済政策で日本経済を立ち直らせようとした。

2020年以降は、 (g) 新型コロナウイルス感染症対策との両立、ロシア・ウクライナ戦争に伴う物価高への対応など、一段と難しい (h) 経済財政運営が求められている。

(1) 文中の空欄 (a) にあてはまる語句を、カタカナで答えなさい。

(2) 下線部 (b) 「世界的な」に関連して、グローバル化の進展に伴い、諸問題を国際的に解決していくことが求められている。このうち環境問題について述べた次のア～エのうち、誤りを含むものを1つ選び、記号で答えなさい。

ア 自動車の排気ガスや、工場等から出る煙などに含まれる物質が大気中で化学反応を起こして発生する「酸性雨」が問題となっている。森林が枯れたり、農作物に被害が発生したりしている。

イ 食料の生産や、資源や畜産物の輸出などのため、過度の伐採や焼き畑が行われることで発生する「熱帯雨林の減少」が問題となっている。アマゾン川流域など、赤道直下の地域でよくみられる。

ウ 石油・石炭などの化石燃料の大量使用などによって大気中に排出された温室効果ガスがオゾン層を破壊して起こる「地球温暖化」が問題となっている。異常気象や海面上昇などによる被害が発生している。

エ その便利さ・安価さゆえに使用量が増えているプラスチック製品が土壌中や海洋中に流出する「プラスチックごみ」が問題となっている。景観が悪化する、海洋生物が間違って飲み込むなどの影響が出ている。





- (8) 下線部(h)「経済財政運営」について、次の資料は、1980年代後半以降の所得税・消費税・法人税の税収額の推移をまとめたものである。このうち、1989年度に導入された消費税は、概ね右肩上がりに税収額が増えているが、途中何度か、前年度に比べて大きく増えているところがある。その要因を10字以内で答えなさい。



(財務省HPより)

[5] 次のⅠ・Ⅱ・Ⅲの各問いに答えなさい。

(30点)

Ⅰ 地理分野に関する次の各問いに答えなさい。

(1) 次のア～エのうち、国名－首都名の組み合わせとして誤っているものを1つ選び、記号で答えなさい。

ア イギリス－ロンドン

イ カナダ－オタワ

ウ ロシア－モスクワ

エ オーストラリア－シドニー

(2) 日本とエジプトの時差は何時間か答えなさい。ただし、日本は東経135度、エジプトは東経30度を標準時の基準としている。

(3) アメリカでは近年、中南米からの移民等の影響により、白人の割合が減り、ヒスパニック系・ラテン系の人々（以下では、単に「ヒスパニック」という）の割合が増えている。次の資料1・資料2は、アメリカ南部の州a～dの人口と人口に対する各人種の割合について、2010年および2020年の国勢調査の結果をもとにまとめたものである。これらの資料から読み取れることとして誤っているものを、あとのア～エから1つ選び、記号で答えなさい。

資料1 2010年のアメリカ国勢調査の結果

州	a	b	c	d
人口 (万人)	3725	205	2515	1880
白人の割合 (%)	40.1	40.5	45.3	57.9
ヒスパニックの割合 (%)	37.6	46.3	37.6	22.4

資料2 2020年のアメリカ国勢調査の結果

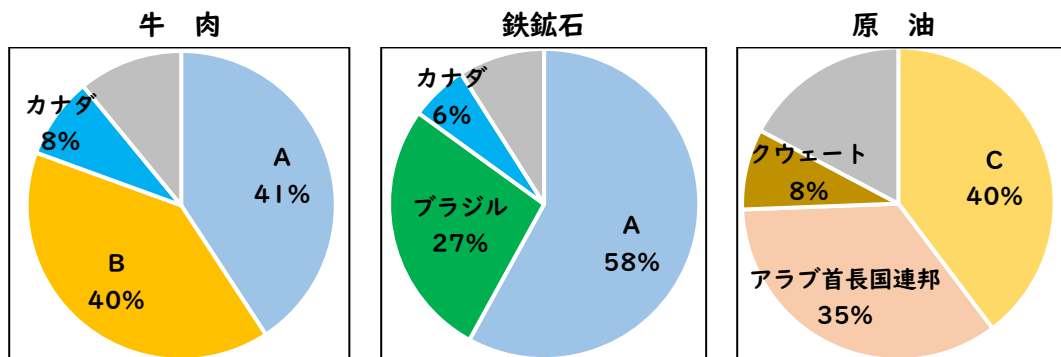
州	a	b	c	d
人口 (万人)	3954	212	2915	2154
白人の割合 (%)	34.7	36.5	39.7	51.5
ヒスパニックの割合 (%)	39.4	47.7	39.3	26.5

(資料1・2ともアメリカ商務省国勢調査局HPより)

- ア aの州では、資料1と資料2の間の10年間で、多数派が白人からヒスパニックに変わった。
- イ bの州には、2020年現在、a～dの州の中で最も多い人数のヒスパニックが住んでいる。
- ウ cの州は、2010年から2020年にかけての人口増加率が、a～dの州の中で最も高い。
- エ dの州では、2020年時点においても、白人が過半数を占めている。

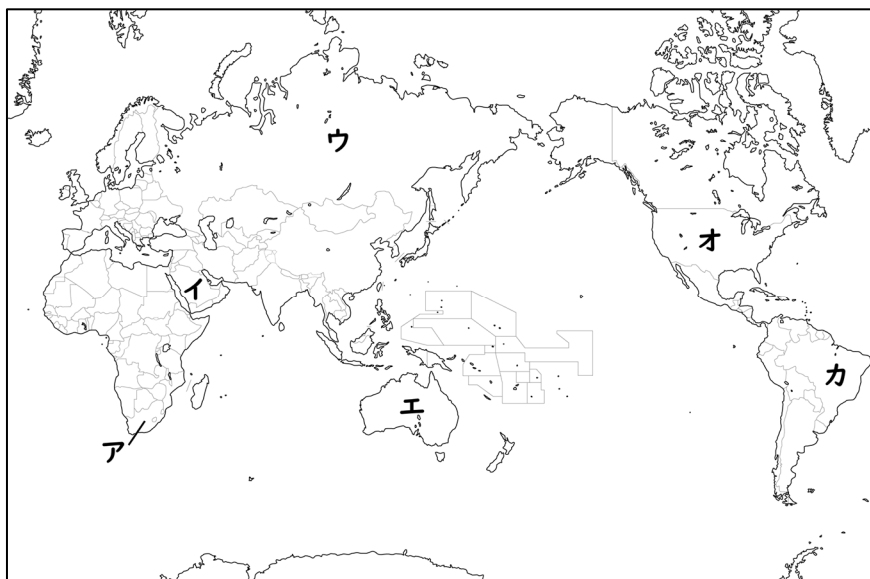
(4) 次の資料3は、日本の牛肉・鉄鉱石・原油の輸入先をまとめたものである。資料3中の国A～Cにあてはまる国を、あとの地図1中の国ア～カから1つずつ選び、記号で答えなさい。

資料3



※■はその他の国 (2020年または2021年 日本国勢図会 2022/23より)

地図1






- ② 次は、2024年発行予定の新千円券の裏面のデザインである。このデザインのもととなった作品としてふさわしいものを、あとのア～エから1つ選び、記号で答えなさい。



(国立印刷局HPより)

- |          |           |
|----------|-----------|
| ア 見返り美人図 | イ 東海道中膝栗毛 |
| ウ 富嶽三十六景 | エ 東海道五十三次 |

- (3) 下の絵画はフランス革命のある場面を描いたものであるが、どのような場面か。ふさわしいものを、あとのア～エから1つ選び、記号で答えなさい。



- ア 議員たちが宮殿の球戯場に集まって「憲法制定まで解散しない」ことを誓い合っている。
- イ 圧政のシンボルであった牢獄（政治犯収容所）を、パリの民衆が襲撃している。
- ウ 裁判の結果、国王の処刑が決まり、ギロチンで処刑されようとしている。
- エ ナポレオン率いるフランス軍が、エジプトのカイロ近郊（ピラミッド付近）で戦っている。

(4) 1917年のロシア革命が世界や日本に与えた影響について述べたものとしてふさわしいものを、次のア～エから1つ選び、記号で答えなさい。

ア 社会主義革命が拡大することを恐れた国々が、三国干渉を行った。

イ 社会主義革命が失敗することを恐れた国々が、三国干渉を行った。

ウ シベリア出兵に向けて商人が米の買い占めを行い、米価が大きく上がったことにより、日本各地で米騒動が起きた。

エ シベリア出兵に向けて商人が米の買い占めを行い、米価が大きく下がったことにより、日本各地で米騒動が起きた。

(5) 第二次世界大戦後、アメリカとソ連は、世界の覇権を巡って激しく対立した(冷戦)。冷戦中は、それぞれの国を盟主とする国々で世界が大きく二つに割れた。その構造をまとめた次の表2の空欄 (a) にあてはまる語句を、アルファベット4字で答えなさい。

表2

西側諸国	陣 営	東側諸国
アメリカ合衆国	盟 主	ソビエト社会主義共和国連邦
資本主義・自由主義	主 義	社会主義・共産主義
多くは民主主義	政治体制	多くは一党独裁
北大西洋条約機構 ( (a) )	軍事同盟	ワルシャワ条約機構 (WTO)

## Ⅲ 公民分野に関する次の各問いに答えなさい。

- (1) 次の資料5は、日本国憲法のうち働くことについて定めた第27条と、それに関連する法律の条文である。

## 資料5

## 日本国憲法

- 第27条 1. すべて国民は、勤労の権利を有し、義務を負ふ。  
 2. 賃金、就業時間、休息その他の勤労条件に関する基準は、法律でこれを定める。  
 3. 児童は、これを酷使してはならない。

## 労働基準法

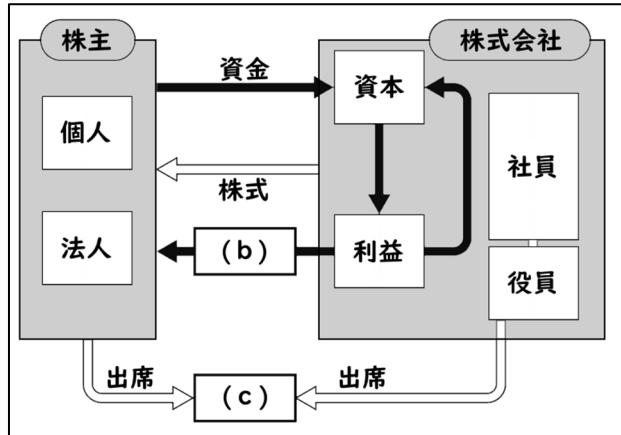
- 第32条 1. 使用者は、労働者に、休憩時間を除き1週間について40時間を超えて、労働させてはならない。  
 2. 使用者は、1週間の各日については、労働者に、休憩時間を除き1日について8時間を超えて、労働させてはならない。
- 第34条 1. 使用者は、労働時間が6時間を超える場合においては少なくとも45分、8時間を超える場合においては少なくとも1時間の休憩時間を労働時間の途中に与えなければならない。  
 3. 使用者は、第1項の休憩時間を自由に利用させなければならない。

※漢数字はアラビア数字に置き換えた

- ① 二重下線部「義務」について、日本国憲法に定められた日本国民の三大義務といえば、「保護する子女に普通教育を受けさせる義務」と「勤労の義務」とあと1つは何か。解答欄にあわせて漢字で答えなさい。
- ② 次のア～エのうち、資料5の規定と照らし合わせて、働かせ方として適切なものを1つ選び、記号で答えなさい。
- ア 9時から16時半まで働かせ、そのうち12時～13時を休憩とした。  
 イ 9時から17時まで働かせ、そのうち12時～12時半を休憩とした。  
 ウ 9時から18時まで働かせ、そのうち17時～18時を休憩とした。  
 エ 9時から18時まで働かせ、そのうち12時～13時を昼食休憩として食べながら会議に参加させた。

- (2) 次の資料6は、法人企業の大部分を占める「株式会社」の仕組みを表している。資料6中の空欄 (b) ・ (c) にあてはまる語句の組み合わせとしてふさわしいものを、あとのア～エから1つ選び、記号で答えなさい。

資料6



- ア (b) 出資 ・ (c) 株主総会  
 イ (b) 出資 ・ (c) 取締役会  
 ウ (b) 配当 ・ (c) 株主総会  
 エ (b) 配当 ・ (c) 取締役会
- (3) 憲法改正について述べた次のア～エのうち、誤っているものを1つ選び、記号で答えなさい。
- ア 衆議院と参議院両方で、総議員の過半数の賛成があれば、憲法改正の発議ができる。
- イ 憲法改正案の成立には、国民投票において、有効投票数の過半数の賛成が必要である。
- ウ 国民投票で憲法改正案が認められた場合、最終的に天皇がこれを公布する。
- エ 日本国憲法が成立してからこれまで、憲法改正は一度も行われたことがない。





受験番号		氏名				採点		
[1]	(1)		(2)		(3)		(4)	
	(5)		(6)					
	(7)							
[2]	(1)	①		②		(2)		
	(3)	X		Y		Z		
	(4)	(a)		(b)		(5)		
[3]	I	(1)		(2)		(3)	藤原	
		(4)		(5)		(6)		
		(7)		→		→		(8)
	II	(1)		(2)		(3)		
		(4)						
(5)								
[4]	(1)			(2)		(3)		
	(4)		(5)		→		→	
	(6)		(7)					
	(8)							
[5]	I	(1)		(2)	時間	(3)		
		(4)	A		B		C	
		(5)						
	II	(1)		(2)	①		②	
		(3)		(4)		(5)		
	III	(1)	①		の義務		②	
		(2)		(3)				

受験番号		氏名	<b>模範解答</b>				採点	<b>1問2点</b>
------	--	----	-------------	--	--	--	----	-------------

[1]	(1)	<b>エ</b>	(2)	<b>ウ</b>	(3)	<b>イ</b>	(4)	<b>ウ</b>		
	(5)	<b>エ</b>	(6)	<b>プランテーション</b>				<small>カタカナ指定</small>		
	(7)	<b>原</b>	<b>油</b>	<b>価</b>	<b>格</b>	<b>の</b>	<b>変</b>	<b>動</b>	<small>5字以上</small>	
[2]	(1)	①	<b>カ</b>	②	<b>ク</b>	(2)	<b>エ</b>			
	(3)	X	<b>ウ</b>	Y	<b>ア</b>	Z	<b>イ</b>	<small>X~Z完答</small>		
	(4)	(a)	<b>促成</b>		(b)	<b>東海</b>		(5) <b>エ</b>		
[3]	I	(1)	<b>ウ</b>	(2)	<b>ウ</b>	(3)	<b>藤原道長</b>		<small>漢字指定</small>	
		(4)	<b>エ</b>	(5)	<b>ウ</b>	(6)	<b>エ</b>			
		(7)	<b>ア → ウ → イ → エ</b>				(8)	<b>象</b>	<b>徴</b>	<small>漢字指定</small>
	II	(1)	<b>カ</b>	(2)	<b>ア</b>	(3)	<b>ウ</b>			
		(4)	<b>エイブラハム=リンカン</b>				<small>単にリンカン, リンカーンも可</small>			
(5)	<b>空</b>	<b>襲</b>	<b>等</b>	<b>に</b>	<b>よ</b>	<b>る</b>	<b>民</b>	<b>間</b>	<b>人</b>	<b>の</b>
		<b>死</b>	<b>者</b>	<b>の</b>	<b>激</b>	<b>増</b>	<small>民間人の原爆被害・産み控え・栄養状態悪化(飢餓)、戦地における急激な戦局悪化・戦死者増・栄養状態悪化など</small>			
[4]	(1)	<b>バブル</b>			(2)	<b>ウ</b>	(3)	<b>イ</b>		
	(4)	<b>エ</b>	(5)	<b>ウ → エ → ア → イ</b>						
	(6)	<b>ア</b>	(7)	<b>エ</b>	<small>カタカナ指定</small>					
	(8)	<b>消</b>	<b>費</b>	<b>税</b>	<b>率</b>	<b>の</b>	<b>引</b>	<b>き</b>	<b>上</b>	<b>げ</b>
[5]	I	(1)	<b>エ</b>	(2)	<b>7</b>	時間	(3)	<b>イ</b>		
		(4)	A	<b>エ</b>	B	<b>オ</b>	C	<b>イ</b>	<small>A~C完答</small>	
		(5)	<b>ア</b>				<small>完答</small>			
	II	(1)	<b>ア</b>	(2)	①	<b>ウ・エ</b>		②	<b>ウ</b>	
		(3)	<b>イ</b>	(4)	<b>ウ</b>	(5)	<b>N</b>	<b>A</b>	<b>T</b>	<b>O</b>
	III	(1)	①	<b>納税</b>			の義務	②	<b>ア</b>	
(2)		<b>ウ</b>	(3)	<b>ア</b>				<small>漢字指定</small>		